

Le sujet est composé de 3 parties distinctes: 2 exercices de chimie, un exercice sur une machine synchrone et l'énoncé de Centrale Psi 18.

## PARTIE CHIMIE

Cette partie est constituée de deux exercices indépendants

### EXERCICE 1 (d'après Mines-Ponts PSI 2017)

*Le silicium (Si) est l'élément situé à la 3ème ligne et 14ème colonne de la classification périodique à 18 colonnes.*

1- Etablir la configuration électronique de l'atome de silicium dans son état fondamental en rappelant les règles appliquées. Quel est le nombre d'électrons de valence du silicium ?

*Certaines espèces à base de silicium peuvent être hypervalentes, c'est-à-dire que leur valence est supérieure à celle attendue. C'est le cas par exemple de  $[\text{SiF}_3]^-$  et  $[\text{SiF}_6]^{2-}$ .*

2- Donner la représentation de Lewis de ces 2 espèces chimiques ; on rappelle que  $Z_F = 9$ .

En la justifiant grâce à la théorie VSEPR, donner la géométrie de l'ion  $\text{SiF}_6^{2-}$ .

### EXERCICE 2 (d'après oral CCINP)

On étudie l'oxydation des ions étain (II) par les ions fer (III). Ecrire son équation bilan.

1. L'expérience montre que cette réaction est totale, et que sa vitesse est de la forme :

$$V = k \cdot [\text{Fe}^{3+}]^a \cdot [\text{Sn}^{2+}]^b$$

Pour déterminer a et b, on effectue plusieurs expériences :

- En présence d'un grand excès d'ions  $\text{Fe}^{3+}$ , le temps de demi-réaction  $\tau_{1/2}$  est indépendant de la concentration initiale  $[\text{Sn}^{2+}]_0$ .
- En revanche, si on réalise des mélanges stoechiométriques,  $\tau_{1/2}$  varie avec  $[\text{Sn}^{2+}]_0$  :

$[\text{Sn}^{2+}]_0$	C	$1,5 \cdot C$	$2 \cdot C$	$3 \cdot C$
$\tau_{1/2}$	$\theta$	$0,44 \cdot \theta$	$0,25 \cdot \theta$	$0,11 \cdot \theta$

Déduire de ces renseignements que  $a = 2$  et  $b = 1$

2. Comment varie, en fonction de la concentration initiale  $[\text{Fe}^{3+}]_0$ , le temps de demi-réaction dans des mélanges où les ions  $\text{Sn}^{2+}$  sont en grand excès?

Données :  $E^\circ(\text{Fe}^{3+}/\text{Fe}^{2+}) = 0,77 \text{ V}$  ;  $E^\circ(\text{Sn}^{4+}/\text{Sn}^{2+}) = 0,14 \text{ V}$ .

## Etude d'une machine synchrone

On étudie une machine synchrone diphasée et dipolaire.

On note  $\omega$  la pulsation des courants statoriques et  $\Omega$  est la vitesse de rotation du moteur.

1. Rappeler la signification des adjectifs « diphasée » et « dipolaire », en précisant bien à quelle(s) partie(s) de la machine ils se réfèrent. On pourra s'aider d'un schéma.

Le circuit rotorique est parcouru par un courant  $I_R$  continu, constant durant toutes les questions examinées dans ce problème. On note  $I$  la valeur efficace des courants dans les bobines statoriques.


### A. PARAMETRES DE LA MACHINE

1. Rappeler la condition de synchronisme pour ce type de machine.
2. Soit  $L_s$  l'inductance d'une phase du stator,  $E$  sa force contre-électromotrice et  $R_s$  sa résistance. Donner le schéma électrique d'une phase en fonctionnement moteur. Dans la suite, on négligera la résistance des enroulements statoriques.
3. La valeur efficace de la force contre-électromotrice s'écrit  $E = \phi\Omega$ . Quelle est la dimension de la grandeur  $\phi$  ? De quels paramètres dépend-elle ?
4. Pour mesurer  $\phi$ , on réalise un essai en circuit ouvert, le rotor étant entraîné par un moteur auxiliaire à la vitesse de 6000 tours/min. Quel est le mode de fonctionnement de la machine ? La tension efficace aux bornes de chacune des phases vaut 120 V ; exprimer et calculer  $\phi$ .
5. Pour mesurer  $L$ , on réalise un essai en court-circuit. Le rotor est toujours entraîné par un moteur auxiliaire à la vitesse de 6000 tours/min. L'intensité efficace mesurée dans une phase vaut 120 A ; exprimer et calculer  $L$ .

### B. UTILISATION POUR LA TRACTION D'UN VEHICULE

6. Le véhicule électrique a une masse de 800 kg et doit pouvoir gravir une pente d'environ 10 % à une vitesse constante de l'ordre de 50 km.h<sup>-1</sup>. La puissance des pertes mécaniques est de 3 kW ; les pertes fer sont négligées ; estimer la puissance que doit développer le moteur. On donne  $g = 10 \text{ m/s}^2$ .
7. On rappelle que l'angle de pilotage représente le déphasage de  $e(t)$ , f.c.é.m. d'une phase du stator, par rapport  $i(t)$ , courant dans cette phase.  
Le régime nominal de rotation est tel que  $\Omega_N = 6000$  tours/min.  
La commande impose un angle de pilotage égal à  $\pi/3$  et le moteur développe une puissance nominale de 15 kW.

A l'aide des données et d'un diagramme de Behn-Eschenburg (appelé aussi diagramme de Fresnel) déterminer l'intensité efficace qui parcourt une phase du stator, ainsi que la valeur efficace de la tension correspondante.



## *Trains à sustentation électromagnétique*

Un train à sustentation magnétique utilise les forces magnétiques pour léviter au dessus de la voie ; il n'est donc pas en contact avec des rails, contrairement aux trains classiques. Ce procédé permet de supprimer la résistance au roulement et d'atteindre des vitesses élevées.

Il existe actuellement deux types de trains à grande vitesse à sustentation magnétique :

- un train à sustentation électromagnétique dans lequel le train lévite par attraction grâce à des aimants (Transrapid développé en Allemagne) ;
- un train à sustentation électrodynamique dans lequel le train lévite par répulsion grâce aux courants de Foucault induits par le déplacement du train (SCMaglev développé au Japon).

La seule réalisation commerciale du Transrapid est à l'heure actuelle la ligne de 30 kilomètres qui fonctionne depuis 2004 entre Shanghai et son aéroport international de Pudong. Le trajet s'effectue en moins de 8 minutes, à la vitesse moyenne de 245 km/h. Sur ce parcours le train atteint la vitesse de 430 km/h, il a la capacité d'accélérer de 0 à 350 km/h en 2 minutes.

La première version commerciale du SCMaglev doit relier en une heure Tokyo et Osaka, distantes de 400 km à vol d'oiseau. L'ouverture du premier tronçon de la ligne (Tokyo-Nagoya) est prévu en 2027 avec une vitesse de pointe sur le parcours de 505 km/h. En 2015 une rame de test de sept voitures a atteint la vitesse de 603 km/h, établissant ainsi l'actuel record de vitesse pour un train.



Transrapid



SCMaglev

**Figure 1**

Nous étudions ici quelques aspects du fonctionnement de ces trains, en accordant — sauf en partie I — une attention particulière au Transrapid.

Certaines questions, repérées par une barre en marge, ne sont pas guidées et demandent de l'initiative de la part du candidat. Les pistes de recherche doivent être consignées par le candidat sur sa copie ; si elles sont pertinentes, elles seront valorisées. Le barème tient compte du temps nécessaire pour explorer ces pistes et élaborer un raisonnement, il valorise ces questions de façon très significative.

Des données utiles, un formulaire et deux annexes sont regroupés en fin d'énoncé.

Les questions 6 à 13 et 36 ont été remaniées , d'ou la différence de police.

# I Réalisation d'un champ magnétique intense

Dans le système à sustentation électrodynamique (SCMaglev), un champ magnétique est créé par des bobines supraconductrices placées dans le train en mouvement. Le constructeur indique que pour faire léviter le train le champ magnétique produit doit dépasser la valeur de 4 teslas.

**Q 1.** Expliquer pourquoi il n'est pas possible de réaliser un tel champ magnétique avec un solénoïde constitué d'un fil résistif. Pour répondre à cette question, vous pourrez vous appuyer sur les données fournies en annexe 1. Vous préciserez clairement les différentes étapes de votre raisonnement.

On se propose d'évacuer la puissance produite par la bobine avec un refroidissement à eau.

**Q 2.** Proposer une valeur maximale acceptable de la différence de température entre la bobine et l'eau. En déduire la valeur minimum de la surface de contact entre la bobine et l'eau.

**Q 3.** Quel débit d'eau faudrait-il assurer pour évacuer la puissance thermique produite par la bobine ?

**Q 4.** Commenter et conclure quant à la faisabilité d'un tel refroidissement.

**Q 5.** En quoi l'utilisation de bobines supraconductrices permet-elle la création de champs magnétiques très intenses ?

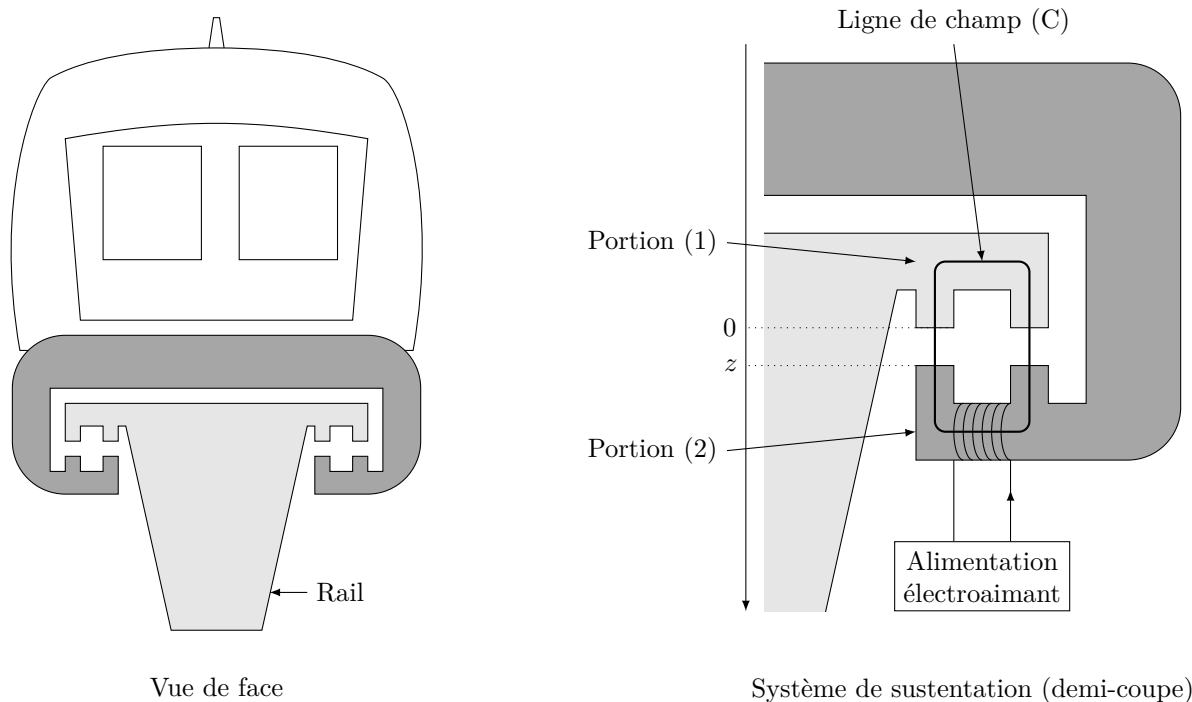
## II La sustentation électromagnétique du Transrapid

### II.A – Modélisation du champ magnétique dans l'entrefer

La figure 2 présente la rame du Transrapid sur son rail et, dans un plan de coupe, le détail du système de sustentation. Ce système est constitué d'un électroaimant dont le circuit magnétique est composé :

- d'une portion (1) en matériau ferromagnétique doux de perméabilité relative  $\mu_r$  ;
- d'une portion (2) solidaire de la rame, constituée du même matériau ferromagnétique, sur lequel sont bobinées  $N$  spires alimentées par un courant d'intensité  $i(t)$ .

Les deux portions sont séparées par un entrefer de largeur  $z$  variable. La section  $S$  du matériau ferromagnétique dans les portions (1) et (2) du circuit magnétique est supposée commune aux portions (1) et (2), constante le long du circuit magnétique et carrée de côté  $a$  :  $S = a^2$ . (C) est une ligne de champ magnétique du circuit (figure 2).



**Figure 2** Transrapid et son système de sustentation

Les hypothèses d'étude sont les suivantes :

- les milieux ferromagnétiques sont supposés doux ;
- on néglige les pertes par courants de Foucault ;
- toutes les lignes de champ sont canalisées par le circuit magnétique.

On note :

- $\vec{B}_1$  le champ magnétique dans la portion (1) ;
- $\vec{B}_2$  le champ magnétique dans la portion (2) ;
- $\vec{B}_a$  le champ magnétique dans les entrefers ;
- $z$  la largeur, variable, des entrefers entre les deux portions ferromagnétiques du circuit magnétique (l'origine  $O$  sur l'axe descendant ( $O, \vec{u}_x$ ) est choisie sur le rail fixe) ;
- $\ell$  la longueur moyenne de la partie de la ligne de champ (C) située à l'intérieur des portions ferromagnétiques (1) et (2) du circuit.

**Q 6.** Rappeler les équations de Maxwell-Ampère, Maxwell-Thomson et Maxwell-Faraday. Donner la relation liant la densité de courant volumique d'aimantation et le vecteur aimantation  $M$ .

**Q 7.** Montrer alors comment est modifiée l'équation de Maxwell-Ampère, en introduisant le vecteur excitation magnétique que l'on définira.

Dans la suite on supposera vérifiée l'ARQS : comment s'écrit finalement l'équation de Maxwell-Ampère ?

**Q 8.** Quelle propriété vérifie le flux du champ magnétique ?

**Q 9.** À quelle condition, supposée vérifiée ici, les lignes de champ restent-elles parallèles dans l'entrefer ?

**Q.10** En déduire les relations liant les normes des vecteurs  $B_1$ ,  $B_2$  et  $B_a$ .

**.Q.11 Tracer la caractéristique linéarisée par morceaux B(H) d'un matériau doux en distinguant les deux zones correspondant à ses deux types de comportement ; on justifiera soigneusement le tracé en précisant les hypothèses réalisées.**

**Q.12** Quelles sont les relations liant B et H dans chacune des zones ?

**Q.13** Donner un ordre de grandeur de la perméabilité magnétique relative d'un tel milieu.

• Dans la suite on supposera que le matériau fonctionne linéairement dans sa zone non saturée.

**Q 14.** Écrire le théorème d'Ampère sur le contour (C).

**Q 15.** En déduire  $B_2$  en fonction de  $\ell$ ,  $z$ ,  $N$ ,  $i$ ,  $\mu_0$  et  $\mu_r$ .

**Q 16.** Simplifier cette écriture en utilisant la question 13.

### II.B – Lévitacion par attraction

On rappelle que la force électromagnétique s'exerçant sur une partie mobile d'un circuit magnétique, parcouru par un courant d'intensité  $i$ , en translation suivant la direction  $\vec{u}_z$  s'écrit  $\vec{F}_{em} = \left( \frac{\partial E_m}{\partial z} \right)_i \vec{u}_z$  où  $E_m$  est l'énergie magnétique.

**Q 17.** Montrer que l'inductance propre  $L(z)$  du bobinage peut s'écrire sous la forme  $L(z) = \frac{\mu_0 N^2 S}{2z}$ .

**Q 18.** Rappeler l'expression de l'énergie magnétique emmagasinée dans la bobine d'inductance  $L(z)$  parcourue par le courant d'intensité  $i(t)$ .

**Q 19.** En déduire la force électromagnétique  $F_{em}$  s'exerçant sur la rame.

**Q 20.** Calculer la masse  $m$  qui peut ainsi être mise en sustentation à une distance  $\delta = 10$  mm du rail pour un électroaimant alimenté avec un courant d'intensité  $i_e = 10$  A.

**Q 21.** Une rame a une masse d'environ 180 tonnes. En déduire le nombre d'électroaimants nécessaires pour la sustentation de la rame. On donne :  $N = 1000$ ,  $S = 0,50$  m<sup>2</sup>.

**Q 22.** Montrer que le système de sustentation électromagnétique est instable.

## III Capteur de position

L'instabilité de l'équilibre de la rame en sustentation nécessite l'asservissement en position de l'entrefer. Cet asservissement est réalisé en utilisant un capteur de position. On se propose dans cette partie d'étudier le principe d'un capteur de position à inductance variable.

### III.A – Capteur à entrefer variable « push-pull »

La figure 3 décrit le schéma de principe d'un capteur inductif à entrefer variable dans un montage « push-pull ». Le capteur comprend un circuit magnétique composé d'un noyau solidaire du rail fixe et de deux bobines B1 et B2 sur deux noyaux ferromagnétiques en vis-à-vis, solidaires de la rame. Les bobines B1 et B2 du capteur sont identiques et placées de façon symétrique par rapport au rail lorsque la rame est à l'équilibre (figure 3 à gauche). Ces bobines B1 et B2 sont indépendantes des bobines assurant la lévitation. Elles sont constituées de  $N_c$  spires de surface  $S$ .

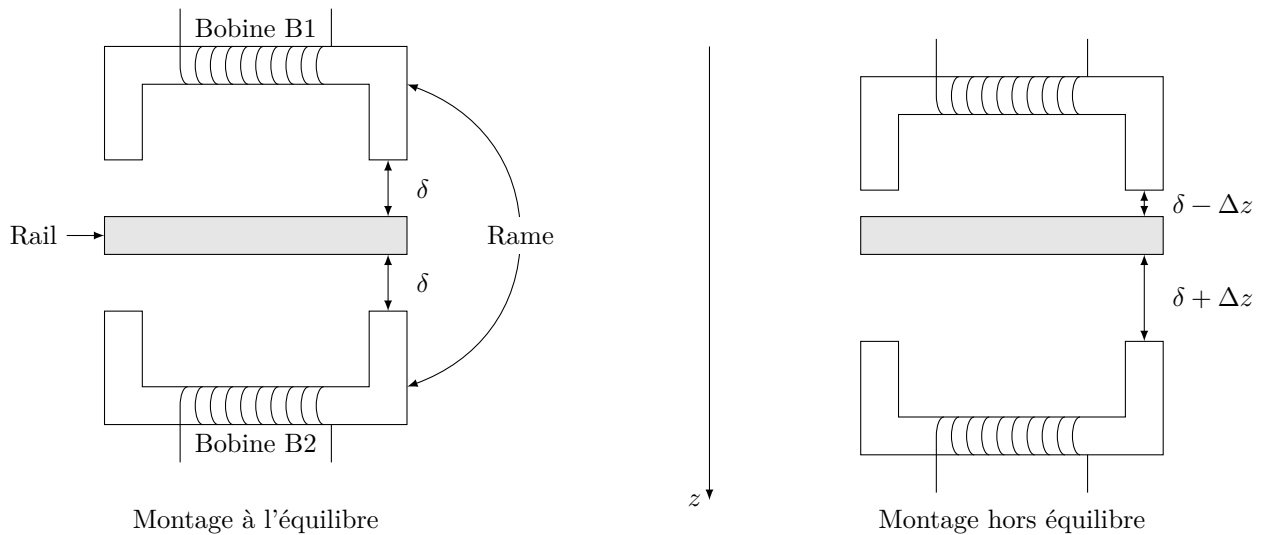


Figure 3

Q 23. Écrire l'inductance  $L_e$  des bobines B1 et B2 lorsque la rame est à l'équilibre.

On envisage une variation  $\Delta z$  de la position du train par rapport à la position d'équilibre  $z_e = \delta$  (figure 3 à droite), en considérant  $\Delta z \ll \delta$ .

Q 24. Écrire les inductance  $L_1$  et  $L_2$  de chacun des bobines B1 et B2 en se limitant au terme du premier ordre en  $\Delta z/\delta$ .

### III.B – Mesure des variations d'inductance

Les bobines B1 et B2 sont alimentées par un générateur délivrant une tension électrique  $e(t) = E \cos(\omega t)$ , de pulsation  $\omega$ , en série avec une résistance  $R$  (figure 4). On néglige ici les résistances des deux bobines.

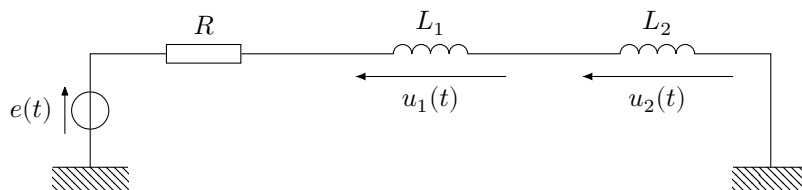


Figure 4 Alimentation du capteur

Q 25. Déterminer les expressions des tensions électriques complexes  $\underline{u}_1$  et  $\underline{u}_2$  en fonction de  $R$ ,  $L_1$ ,  $L_2$ ,  $\omega$  et  $\underline{e}$ .

Ces tensions sont placées à l'entrée du montage présenté figure 5. L'ALI est supposé idéal en fonctionnement linéaire.

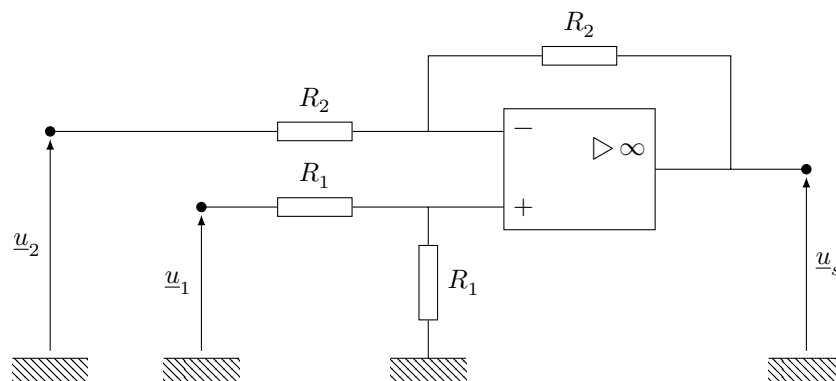


Figure 5 Montage soustracteur

Q 26. Montrer que la tension électrique de sortie du montage peut s'écrire sous la forme  $\underline{u}_s = K(\underline{u}_1 - \underline{u}_2)$  où  $K$  est une constante que l'on déterminera en fonction des composants du montage.

Q 27. Exprimer la fonction de transfert complexe  $\underline{T}(j\omega)$  sous la forme  $\underline{T}(j\omega) = \frac{\underline{u}_s}{\underline{e}} = T_0 \frac{j(\omega/\omega_0)}{1 + j(\omega/\omega_0)}$  où  $T_0$  et  $\omega_0$  sont des fonctions de  $L_e$ ,  $R$ ,  $\Delta z$  et  $\delta$ , que l'on déterminera.

Q 28. Tracer le diagramme de Bode asymptotique de  $\underline{T}(j\omega)$ .

Q 29. De quel type de filtre s'agit-il ?

Q 30. Quelle est la signification de la pulsation  $\omega_0$  ?

Q 31. Dans quelle gamme de fréquences doit-on travailler pour que  $\underline{I}(j\omega)$  soit indépendant de  $\omega$  et proportionnel au déplacement de la rame ?

On a  $R = 750 \Omega$ ,  $L_e = 60 \text{ mH}$  et une fréquence d'utilisation  $f = 4 \text{ kHz}$ .

Q 32. Montrer que le signal de sortie peut se mettre sous la forme  $u_s(t) = E \frac{\Delta z}{\delta} \cos(\omega t + \varphi)$ .

Q 33. Exprimer et calculer le déphasage  $\varphi$ .

### III.C – Électronique de conditionnement

On souhaite obtenir un signal continu image de la position  $z$  de la rame. On utilise pour cela un multiplieur analogique, avec une constante de multiplication  $K_m$ , dans le montage donné figure 6.

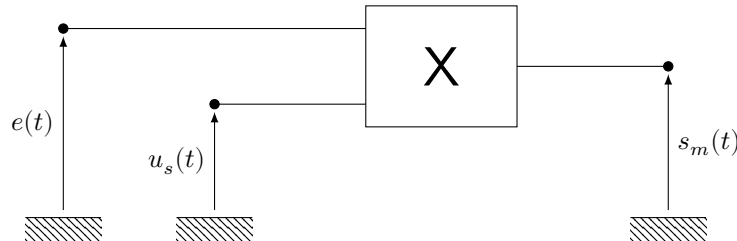


Figure 6 Multiplieur analogique

Q 34. Exprimer la tension électrique  $s_m(t)$  à la sortie du multiplieur et donner sa décomposition spectrale. Préciser le terme représentatif de la position  $z$  de la rame.

Q 35. Quel montage doit-on placer à la sortie du multiplieur pour récupérer une tension continue  $S_m$  proportionnelle au déplacement  $\Delta z$  ? Préciser la nature et les caractéristiques de ce montage.

Q 36. Exprimer la sensibilité du capteur définie par  $\frac{S}{\Delta z}$  (S divisé par delta z)

Q 37. Application numérique Le capteur permet de mesurer la tension de sortie à 10 mV près. En déduire le plus petit écart relatif mesurable par rapport à la position d'équilibre. On prendra  $E = 6,00 \text{ V}$ ,  $K_m = 1,00 \text{ V}^{-1}$ .

## IV Énergétique du Transrapid

Q 38. En vous appuyant sur les documents fournis (annexes 1 et 2), évaluer les puissances consommées par le Transrapid et par un train conventionnel sur rail lorsqu'ils circulent à  $300 \text{ km}\cdot\text{h}^{-1}$ . Discuter de la pertinence du dispositif Transrapid.

Le constructeur indique que la distance de freinage du Transrapid est de 3,6 km à  $300 \text{ km}\cdot\text{h}^{-1}$ .

Q 39. En déduire la puissance de freinage, supposée constante au cours du freinage, en négligeant la traînée aérodynamique du train devant la force de freinage.

On pourra établir la loi de variation de la vitesse du train en fonction de la distance  $x$  parcourue à partir du début du freinage.

Q 40. Toujours dans la même approximation, calculer la valeur moyenne de la puissance de la traînée aérodynamique du train pendant la durée du freinage et la comparer à la puissance de freinage déterminée à la question précédente.

Q 41. Commenter la qualité de l'approximation utilisée.

### Données et formulaire

Perméabilité magnétique du vide	$\mu_0 = 4\pi \times 10^{-7} \text{ H}\cdot\text{m}^{-1}$
Permittivité diélectrique du vide	$\varepsilon_0 = 8,854 \times 10^{-12} \text{ F}\cdot\text{m}^{-1}$
Charge élémentaire	$e = 1,602 \times 10^{-19} \text{ C}$
Intensité du champ de pesanteur terrestre	$g = 9,8 \text{ m}\cdot\text{s}^{-2}$
Capacité thermique massique de l'eau liquide	$c_e = 4,2 \text{ kJ}\cdot\text{kg}^{-1}\cdot\text{K}^{-1}$

Loi de Newton du transfert conducto-convectif entre un solide et un fluide

$$P = hS\Delta T$$

où  $P$  est la puissance thermique échangée,  $S$  la surface de contact solide-fluide et  $\Delta T$  la différence de température entre la surface du solide et celle du fluide très loin du solide. Pour le coefficient de transfert thermique conducto-convectif  $h$ , on prendra ici  $h \approx 100 \text{ W}\cdot\text{m}^{-2}\cdot\text{K}^{-1}$ .

## Annexe 1

### Caractéristiques du solénoïde

Diamètre $D$	Longueur $L$	Nombre de spires $N$	Diamètre du fil de cuivre $d$
0,2 m	0,5 m	10 000	2,0 mm

### Données sur le cuivre

Masse volumique	$\mu = 8,96 \times 10^3 \text{ kg}\cdot\text{m}^{-3}$
Capacité thermique massique	$c = 385 \text{ J}\cdot\text{kg}^{-1}\cdot\text{K}^{-1}$
Résistivité électrique	$\rho = 1,68 \times 10^{-8} \text{ }\Omega\cdot\text{m}$
Température de fusion	$T_f = 1356 \text{ K}$

## Annexe 2

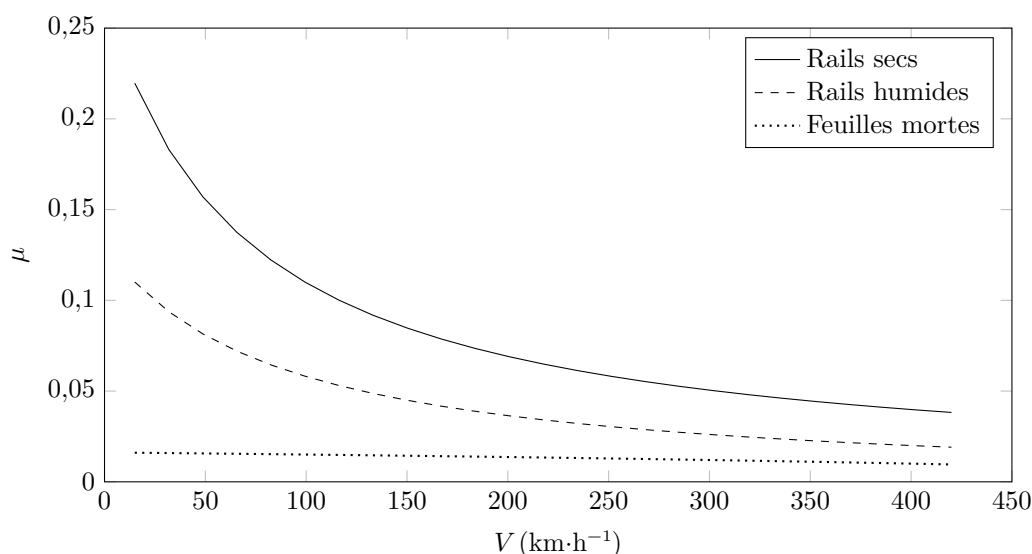
### Données comparatives Transrapid – TGV

	Transrapid	TGV duplex
Masse (tonnes)	190	390
Nombre de places	310	510
Longueur (m)	79,7	200
Puissance d'une motrice (kW)		8800
Composition du train	3 voitures motrices	motrice – 8 voitures – motrice
Type de moteur	Moteur synchrone linéaire	Moteur rotatif asynchrone embarqué dans la motrice
Alimentation	Sous-stations réparties sur la voie	Caténaire
Section aérodynamique (m <sup>2</sup> )	11	12
$C_x$	0,24	0,35

### D'après « Techniques de l'ingénieur – Ingénierie des transports | Systèmes ferroviaires »

Le Transrapid fonctionne avec des moteurs linéaires synchrones dont les bobinages « inducteurs » sont disposés le long de la voie. Les bogies d'articulation des rames comportent l'ensemble des « induits » de motorisation. Les constructeurs ont également combiné, sous les voies, les électroaimants de support vertical et le guidage.

La résistance à l'avancement du train due au contact sur les rails horizontaux et alignés est définie par une action tangentielle, opposée au mouvement, dont la norme  $\|\vec{T}\|$  peut s'écrire sous la forme  $\|\vec{T}\| = \mu(V)\|\vec{N}\|$  où  $V$  est la vitesse du train,  $\vec{N}$  la composante de la réaction normale du rail sur le train et  $\mu(V)$  le coefficient d'adhérence dont la forme est donnée figure 7.



**Figure 7** Adhérence maximale sollicitable pour un train à grande vitesse en fonction de la vitesse et de l'état du rail